

# موقع عيون البصائر التعليمي

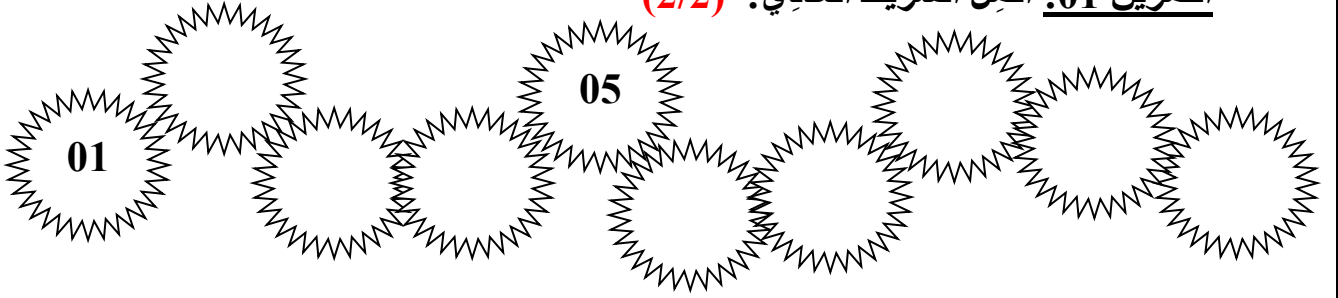
جانفي 2022

المستوى الأولى

فرض منزلي في الرياضيات

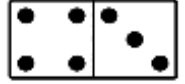
الإسم: ..... اللقب: ..... القسم: .....

**التمرين 01: أكمل الشريط العدديّ: (2/2)**

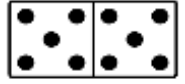


**التمرين 02: أربط مع ما يُناسبُ: (1.5/1.5)**

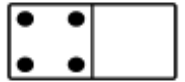
10



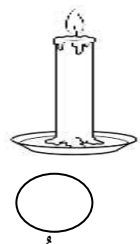
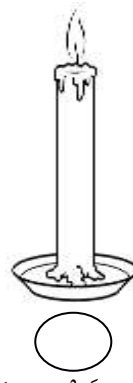
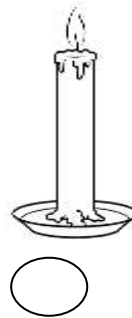
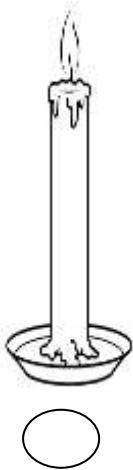
4



7



**التمرين 03: ألون أطول شمعة بالأحمر و أقصر شمعة بالأصفر: (2/2)**



- أرتب الشموع من الأطول إلى الأقصر

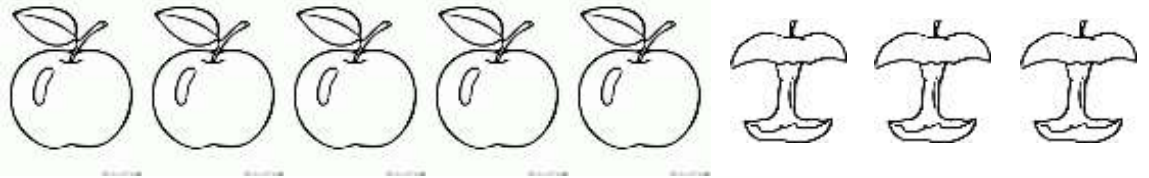
**التمرين 04: احسب: (2.5/2.5)**

$$4 + 4 = \dots\dots\dots / 9 + 1 = \dots\dots\dots$$

$$5 + 3 = \dots\dots\dots / 1 + 9 = \dots\dots\dots / 2 + 3 = \dots\dots\dots$$

**الوضعية الإدماجية: (2/2)**

لدى أحمد 8 تفاحات أكل .....



$$8 - \text{.....} = \text{.....}$$

بقي عند أحمد ..... تفاحاتٍ